


{ Ken je stad }

speurvel

In het Haags Historisch Museum kun je ontdekken hoe Den Haag er vroeger uit zag. Er bestaan schilderijen die soms wel 400 of 500 jaar oud zijn, waarop Den Haag van toen te zien is.

Een voorbeeld is het schilderij De Hofvijver vanaf het Doelenterrein, gemaakt door een onbekende kunstenaar in 1567. Hier zie je er een zwartwit-plaatje van. Zoek op de site een mooie kleurenafbeelding.



Ontdek en ken je stad!

De volgende opdrachten kun je maken met behulp van de schoolplatenwebsite. Speur dus rond en vind je antwoorden!

Opdracht 1





Bovenaan het schilderij zie je twee stadswapens, met elk een dier.

a. Welke dieren zijn dat?

b. Wat hebben die dieren met Den Haag te maken?

Opdracht 2

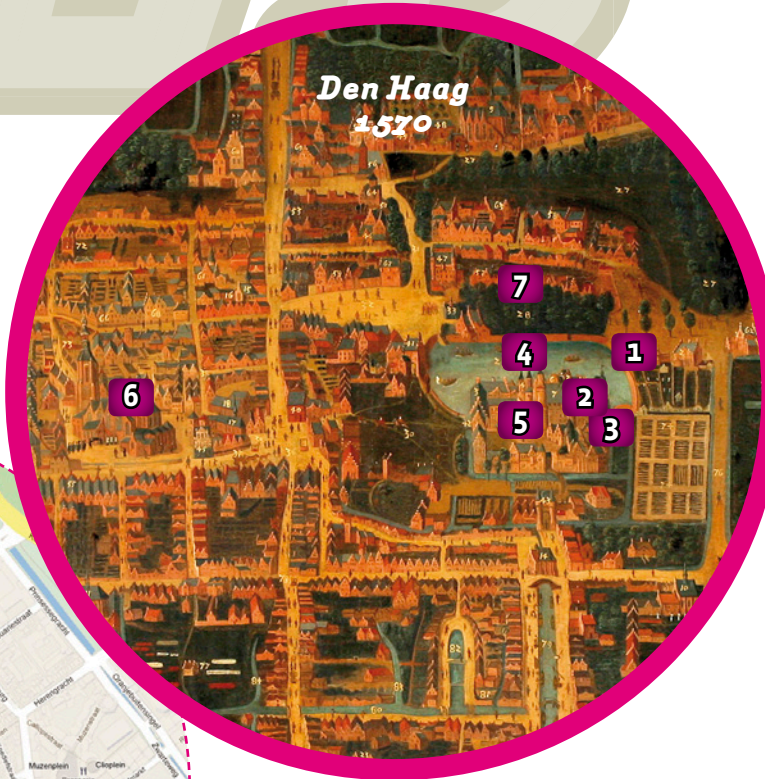
Hier zie je foto's van gebouwen en straten in het Den Haag van nu. Welk cijfertje in het schilderij hoort bij welke foto? Vul het cijfer en de naam van elke plek hier in:



Den Haag
nu



Als je ergens de weg niet goed weet, en je wilt wel weten hoe je moet lopen, dan kun je tegenwoordig een plattegrond gebruiken; een tekening van een stad van bovenaf gezien. Alles is plat afgebeeld, vandaar de naam... Hieronder zie je een plattegrond van het centrum van Den Haag nu.



Den Haag
1570

Opdracht 4

Kun je nog meer geschilderde stadsgezichten van het oude Den Haag op de site vinden? Kies uit welke je de mooiste vindt. Ziet de stad er nu nog hetzelfde uit, of is er veel veranderd? Noem één ding dat hetzelfde is gebleven, en één ding dat erg veranderd is.

hetzelfde

nu anders

speurvel

Opdracht 3

a. Dit schilderij lijkt al wat meer op een plattegrond. Waarom? Wat is het verschil met het vorige schilderij?

b. De nummertjes staat op precies dezelfde plekken als op het schilderij bij opdracht 2. Wie liet gebouw nummer 5 heel lang geleden bouwen?

c. In gebouw nummer 2 werkt nu onze minister-president. Maar wie ging er in de 16de eeuw wonen, toen hij met zijn hele hofhouding naar Den Haag trok?

Tip: naar hem is dit gebouw ook vernoemd.

Opdracht 5

Zoek nu op internet een plattegrond van je eigen wijk.

a. Kun je ontdekken waar je school staat?

b. En waar je woont?

c. Zijn er nog oude gebouwen, die er al heel lang staan? Zoja, welke? Kun je daar een leuke weetje over vinden?